

**Проверочная работа
по МАТЕМАТИКЕ**

4 КЛАСС

Вариант 3

Инструкция по выполнению работы

На выполнение работы по математике даётся 45 минут. Работа содержит 12 заданий.

В заданиях, после которых есть поле со словом «Ответ», запиши ответ в указанном месте.

В заданиях 5 (пункт 2) и 11 нужно сделать чертёж или рисунок. В задании 10 нужно записать ответ, заполнив приведённую форму.

В заданиях, после которых есть поле со словами «Решение» и «Ответ», запиши решение и ответ в указанном месте.

Если ты хочешь изменить ответ, то зачеркни его и запиши рядом новый.

При выполнении работы нельзя пользоваться учебниками, рабочими тетрадями, справочниками, калькулятором.

При необходимости можно пользоваться черновиком. Записи в черновике проверяться и оцениваться не будут.

Советуем выполнять задания в том порядке, в котором они даны. Для экономии времени пропускай задание, которое не удаётся выполнить сразу, и переходи к следующему. Постарайся выполнить как можно больше заданий.

Желаем успеха!

Таблица для внесения баллов участника

Номер задания	1	2	3	4	5(1)	5(2)	6(1)	6(2)	7	8	9(1)	9(2)	10	11	12	Сумма баллов за работу	Отметка
Баллы																	

1

Вычисли: $282 - 57$.

Ответ:																						
--------	--	--	--	--	--	--	--	--	--	--	--	--	--	--	--	--	--	--	--	--	--	--

2

Вычисли: $(26 + 18) : 2 - 7$.

Ответ:																						
--------	--	--	--	--	--	--	--	--	--	--	--	--	--	--	--	--	--	--	--	--	--	--

3

Рассмотри рисунок и ответь на вопрос: сколько рублей сдачи получит покупатель, расплатившийся за 1 кг груш и 1 кг персиков купюрой в 500 руб.?



Запиши решение и ответ.

Решение.

Решение.																						
Ответ:																						

4 В 2050 году 31 января — понедельник. Какой день недели 7 января?

□

Ответ:																													

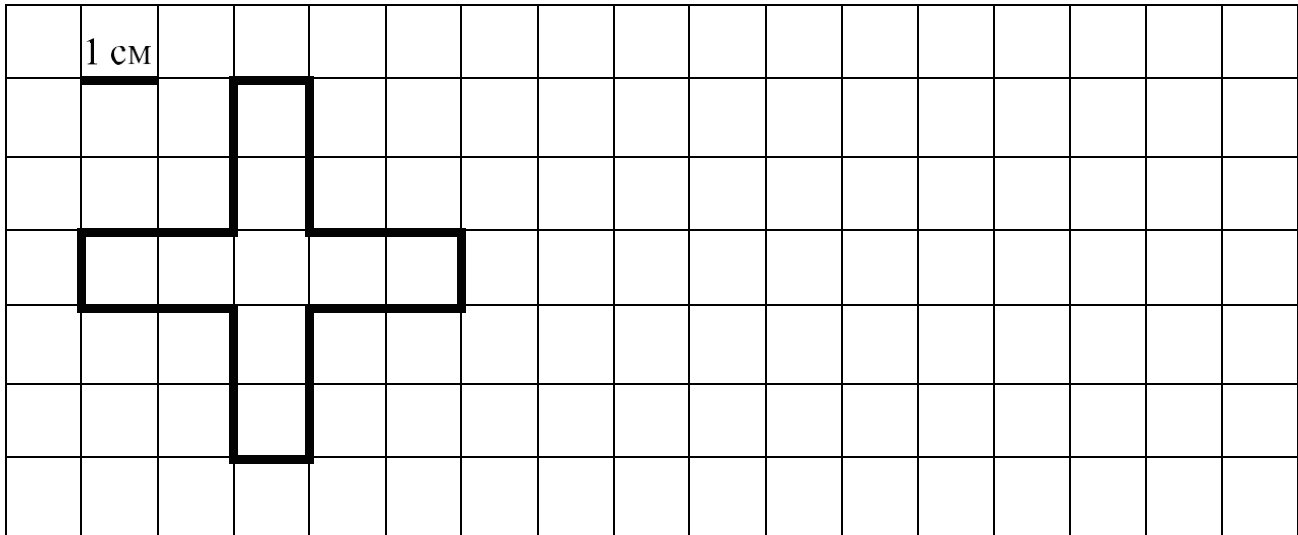
5 Ниже на клетчатом поле со стороной клетки 1 см изображена фигура.

1) Найди периметр этой фигуры.

□

Ответ:																													

2) На клетчатом поле рядом с фигурой нарисуй квадрат, периметр которого равен периметру данной фигуры.



6

Марина в течение четырёх дней собирала грибы и каждый день записывала количество найденных грибов в таблицу. Используя данные этой таблицы, ответь на вопросы.

Дни	Подберёзовики	Подосиновики	Белые
Первый день	9	6	2
Второй день	3	3	7
Третий день	1	2	8
Четвёртый день	2	3	3

1) Сколько подберёзовиков собрала Марина во второй день?



Ответ:	
--------	--

2) Каких грибов собрала Марина больше всего в третий день?



Ответ:	
--------	--

7

Найди значение выражения $160 \cdot 3 + 130 \cdot 4$.



Ответ:	
--------	--

8

На изготовление одного пододеяльника требуется 4 м 80 см полотна, а на одну наволочку — 70 см полотна. Всего было израсходовано 90 м полотна. Пододеяльников сшили 10 штук. Сколько сшили наволочек?

Запиши решение и ответ.

Решение.

 Ответ:

9

На компьютере установлен пароль, состоящий из семи цифр. Цифры идут в порядке возрастания, т. е. каждая следующая цифра больше предыдущей. Вторая цифра в этом пароле – «3», пятая – «6».

1) Какая цифра в пароле идёт третьей?

 Ответ:

2) Перечисли все цифры, которые могут стоять на седьмом месте в пароле.

 Ответ:

10

Миша написал сочинение о торговом центре около его дома и нарисовал план торгового центра.

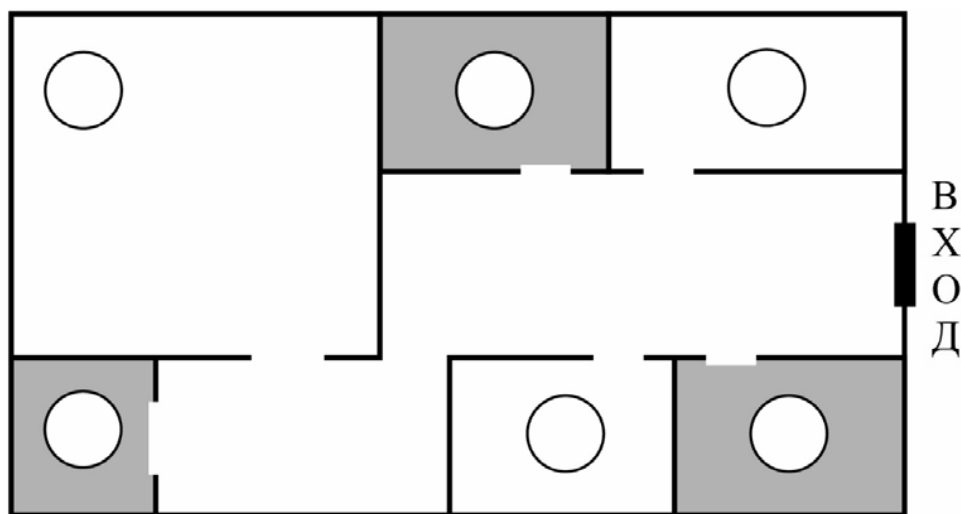
Около нашего дома недавно открылся новый торговый центр. Он небольшой, но очень удобный. В нём есть всё самое необходимое. Если войти в него с улицы, то сразу справа находится зоосалон. Туда можно заходить с животными. Мы с мамой водили туда нашу собачку Жульку, чтобы перед покупкой примерить ей комбинезон на зиму. А мой одноклассник Витя рассказывал, что они подстригают там свою персидскую кошку.

Напротив зоосалона, слева от входа в торговый центр, находятся две палатки. Если повернуться к ним лицом и встать спиной к зоосалону, то слева будет палатка «Свежее молоко», а справа — палатка «Горячая выпечка». Выпечка там и правда продаётся горячая и очень вкусная, а молочные продукты натуральные и очень свежие. Бабушка говорит, что такого вкусного сливочного масла она не ела со времён своего детства.

Самое большое помещение в торговом центре занимает продуктовый супермаркет. Если стоять лицом ко входу в супермаркет, то слева от него, в углу, мы увидим аптеку. А правее входа в супермаркет около зоосалона находится металлоремонт, где можно изготовить запасные ключи и починить молнию на куртке или сумке.

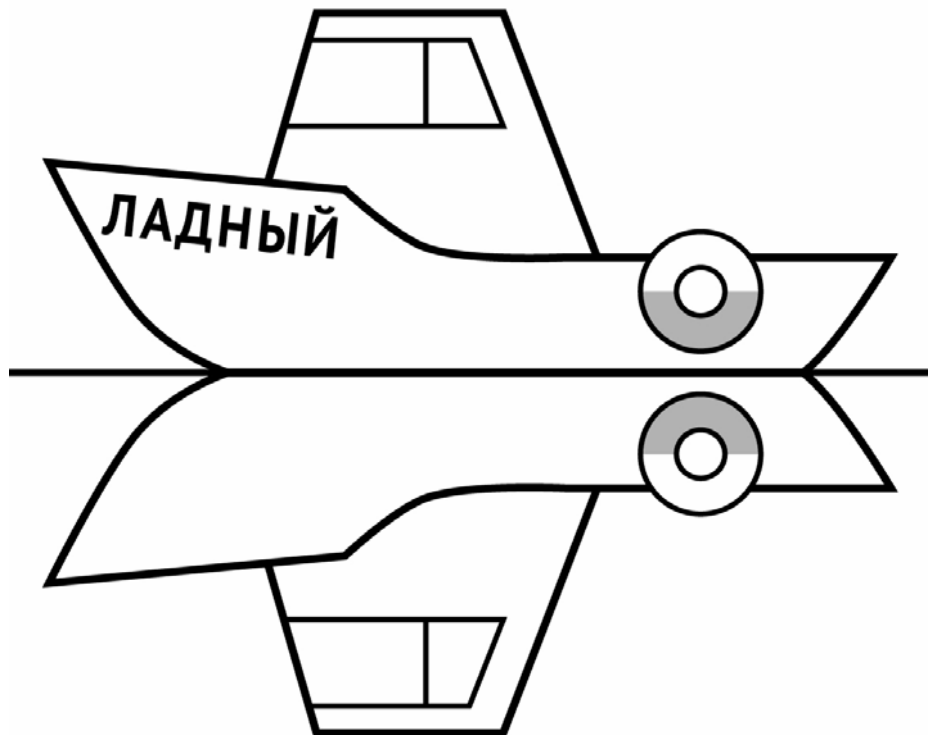
Рассмотри план торгового центра. Пользуясь описанием, которое дал Миша, отметь на плане цифрами шесть объектов.

1. Металлоремонт.
2. Аптека.
3. Палатка «Свежее молоко».
4. Продуктовый супермаркет.
5. Зоосалон.
6. Палатка «Горячая выпечка».



11

На рисунке изображён катер и его отражение в воде. На борту катера написано название «Ладный». Напиши название катера на отражении в воде.



12

Оля загадала число. Она сказала: «Моё число меньше 50; при делении на 7 оно даёт остаток 6, а при делении на 5 — остаток 4». Какое число загадала Оля?

Запиши решение и ответ.

Решение.

Ответ: